

第107回 歯科医師国家試験 正答値表

問題番号	正答1	正答2	正答3	正答4
A001	E			
A002	D			
A003	D			
A004	C			
A005	D			
A006	B			
A007	B			
A008	B			
A009	C			
A010	E			
A012	D			
A013	E			
A014	D			
A015	E			
A016	D			
A017	C			
A018	B			
A019	D			
A020	D			
A021	C			
A022	B			
A023	A			
A024	A			
A025	E			
A026	E			
A027	C			
A028	B			
A029	E			
A030	C			
A031	A			
A032	B			
A033	E			
A034	B			
A035	D			
A036	C			
A037	B	E		
A038	A			
A039	B			
A040	E			
A041	B			
A042	D			
A043	B			
A044	E			
A045	A			
A046	E			
A047	CD			
A048	AD			
A049	AD			
A050	BC			
A051	AE			
A052	B			
A053	BDE			
A054	AE			
A055	DE			
A056	DE			
A057	AD			
A058	E			
A059	AE			
A060	BE			

問題番号	正答1	正答2	正答3	正答4
A061	BD			
A062	AE			
A063	E			
A064	AC			
A065	DE			
A066	BE			
A067	C			
A068	AC			
A069	E			
A070	BDE			
A071	BE			
A072	BD			
A073	AD			
A074	E			
A075	BE			
A076	C			
A077	DE			
A078	BDE			
A079	AE			
A080	AD			
A081	AB			
A082	BC			
A083	CE			
A084	DE			
A085	AB			
A086	B			
A087	ABD			
A088	DE			
A089	DE			
A090	BCE			
A091	C			
A092	AD			
A093	AD			
A094	D			
A095	CD			
A096	E			
A097	B			
A098	AD			
A100	AD			
A101	CE			
A102	DE			
A103	D			
A104	AD			
A105	AE			
A106	AB			
A107	CE			
A108	CD			
A109	AB			
A110	AD			
A111	AD			
A112	A			
A113	A			
A114	E			
A116	A			
A117	E			
A118	C			
A119	C			
A120	C			

問題番号	正答1	正答2	正答3	正答4
A121	E			
A122	C			
A123	E			
A124	B			
A125	B			
A126	C			
A127	D			
A128	C			
A129	E			
A130	D			
B001	E			
B002	A			
B003	CD			
B004	BC			
B005	AB			
B006	B			
B007	C			
B008	D			
B009	E			
B010	BE			
B011	E			
B012	E			
B013	BE			
B014	C			
B015	AC			
B016	B			
B017	CE			
B018	C			
B019	AD			
B020	A			
B021	C			
B022	BCE			
B023	AD			
B024	CE			
B025	BD			
B026	B			
B027	D			
B028	AB			
B030	BCDE			
B031	C			
B032	CE			
B033	BC			
B034	BC			
B035	BE			
B036	ACD			
B037	D			
B038	E			
B039	C			
B040	CE			
B041	ABCD			
B042	AB			
B043	CE			
B044	BE			
B045	BE			
B046	C			
B047	C			
B048	AE			
B049	CE			
B050	D			

第107回 歯科医師国家試験 正答値表

問題番号	正答1	正答2	正答3	正答4
B051	H			
B052	D			
C001	B			
C002	B			
C003	D			
C004	B			
C005	A			
C006	A			
C007	D			
C008	B			
C009	B			
C010	D			
C011	E			
C012	D			
C013	A			
C014	C			
C015	E			
C016	C			
C017	E			
C018	E			
C019	E			
C020	D			
C021	B			
C022	A			
C023	B			
C024	C			
C025	E			
C026	C			
C027	D			
C028	D			
C029	E			
C030	A			
C031	D			
C032	E			
C033	B			
C035	D			
C036	D			
C037	E			
C038	B			
C039	D			
C040	D			
C042	C			
C043	E			
C045	A			
C046	AC			
C047	CD			
C048	DE			
C049	AC			
C050	BC			
C051	AB			
C052	AE			
C053	AC			
C054	AE			
C055	C			
C056	BC			
C057	DE			
C058	ACD			

問題番号	正答1	正答2	正答3	正答4
C059	E			
C061	AE			
C062	AD			
C063	DE			
C064	BD			
C065	CD			
C066	AD			
C067	AE			
C068	AB			
C069	C			
C070	AC			
C071	AB			
C072	D			
C073	A			
C074	C			
C075	DE			
C076	ACD			
C078	AD			
C079	C			
C080	AD			
C081	A			
C082	C			
C083	ACE			
C084	DE			
C085	B			
C086	BC			
C087	AB			
C088	BE			
C089	AE			
C090	DE			
C091	AD			
C092	B			
C093	AD			
C094	A			
C095	DE			
C096	BD			
C097	BD			
C098	E			
C099	DE			
C100	A			
C101	BC			
C102	CE			
C103	C			
C104	AC			
C105	AE			
C106	CE			
C107	C			
C108	AE			
C109	CD			
C110	BE			
C111	AB			
C112	BE			
C113	A			
C114	D			
C115	A			
C116	D			
C117	A			
C118	C			

問題番号	正答1	正答2	正答3	正答4
C119	C			
C120	E			
C121	AB			
C122	C			
C123	A			
C124	B			
C125	E			
C126	B			
C127	C			
C128	C			
C129	C			
C130	D			
D001	C			
D002	E			
D003	AC			
D004	C			
D005	A			
D006	D			
D007	E			
D008	AD			
D009	DE			
D010	B			
D011	E			
D012	AE			
D013	BE			
D014	C			
D015	BC			
D016	AE			
D017	D			
D018	D			
D019	C			
D020	C			
D021	C			
D022	BD			
D023	D			
D024	BD			
D025	BE			
D026	AE			
D027	BD			
D028	C			
D029	AB			
D030	A			
D031	C			
D032	B			
D033	BE			
D034	B			
D035	A			
D036	BD			
D037	E			
D038	C			
D039	E			
D040	BD			
D041	B			
D042	C			
D043	CD			
D044	A			
D045	B			
D046	DE			
D047	BE			
D048	BE			

第107回歯科医師国家試験における採点除外等の取扱いをした問題について

A 問題 第 9 問

- 9 静脈血採取法で正しいのはどれか。1つ選べ。
- a 採血時には駆血帯を外す。
 - b 手袋の装着は不要である。
 - c 穿刺は消毒用アルコールが乾いてから行う。
 - d 血液の逆流が少ない場合は陰圧を強くかけて引く。
 - e 血管が出にくいときは穿刺部位を心臓より高くする。

(採点上の取り扱い)

正解した受験者については採点対象に含め、不正解の受験者については採点対象から除外する。

(理 由)

問題として適切であるが、必修問題としては妥当でないため。

第107回歯科医師国家試験における採点除外等の取扱いをした問題について

A 問題 第 11 問

11 人間を対象とした医学研究における「患者の自己決定権」を定めた最初の国際規範はどれか。1つ選べ。

- a リスボン宣言
- b ジュネーブ宣言
- c ヘルシンキ宣言
- d ヒポクラテスの誓い
- e ニュルンベルグ綱領

(採点上の取り扱い)

採点対象から除外する。

(理 由)

設問が不十分で正解が得られないため、採点対象から除外する。

第107回歯科医師国家試験における採点除外等の取扱いをした問題について

A 問題 第 21 問

21 エナメル質齲蝕で正しいのはどれか。1つ選べ。

- a 裂隙の形成
- b 漏斗状の拡大
- c 不透明層の存在
- d 齲蝕検知液での濃染
- e サイコロ状結晶への転化

(採点上の取り扱い)

正解した受験者については採点対象に含め、不正解の受験者については採点対象から除外する。

(理 由)

問題として適切であるが、必修問題としては妥当でないため。

第107回歯科医師国家試験における採点除外等の取扱いをした問題について

A 問題 第 37 問

37 母乳を介して感染するのはどれか。1つ選べ。

- a 風疹ウイルス
- b B型肝炎ウイルス
- c 単純ヘルペスウイルス
- d ヒトパピローマウイルス
- e ヒトT細胞白血病ウイルス

(採点上の取り扱い)

複数の選択肢を正解として採点する。

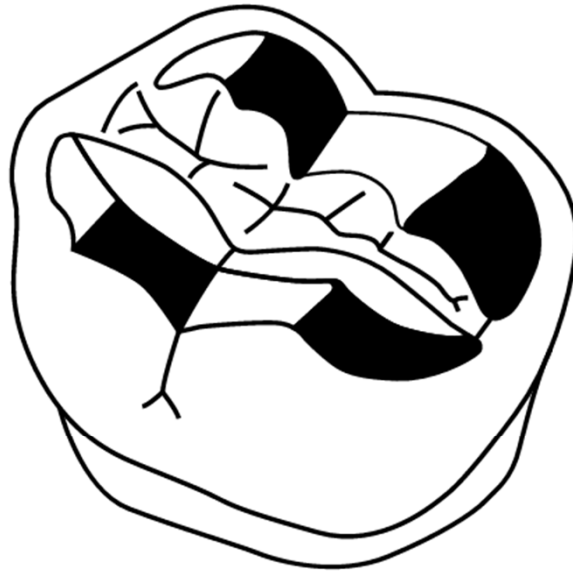
(理 由)

選択肢に複数の正解があるため、複数肢を正解とする。

第107回歯科医師国家試験における採点除外等の取扱いをした問題について

A 問題 第 99 問

99 下顎右側第一大臼歯人工歯の咬合小面の模式図を示す。



黒く塗られた咬合小面について正しいのはどれか。2つ選べ。

- a 中切歯、側切歯には存在しない。
- b 作業側側方咬合と後方咬合時の運動方向によって規定される面である。
- c 平衡側側方咬合と後方咬合時の運動方向によって規定される面である。
- d 作業側と平衡側の側方咬合時の運動方向によって規定される面である。
- e 矢状顎路傾斜角と矢状切歯路傾斜角によってその傾斜角が決定される。

(採点上の取り扱い)

採点対象から除外する。

(理 由)

問題として適切であるが、受験者レベルでは難しすぎるため採点対象から除外する。

第107回歯科医師国家試験における採点除外等の取扱いをした問題について

A 問題 第 115 問

115 全身麻酔に際して、気管チューブが気管内に挿入されているのを確認するのに最も確実な指標はどれか。1つ選べ。

- a 脈拍数
- b 気道内圧
- c 気管チューブのカフ圧
- d 経皮的動脈血酸素飽和度
- e 終末呼気二酸化炭素分圧

(採点上の取り扱い)

採点対象から除外する。

(理 由)

問題として適切であるが、受験者レベルでは難しすぎるため採点対象から除外する。

第107回歯科医師国家試験における採点除外等の取扱いをした問題について

B 問題 第 29 問

29 21歳の女性。上顎両側側切歯が小さいことを気にして来院した。オールセラミッククラウンで修復することとした。術前、フレーム試適時およびクラウン試適時の口腔内写真(別冊 No. 29)を別に示す。クラウン試適時のコンタクトゲージによる歯間離開度検査の結果を表に示す。

歯 種	4	3	2	1	1	2	3	4
歯間離開度 (μm)	50	110	110	110	110	50	50	

クラウン試適後の処置として適切なのはどれか。1つ選べ。

- a 仮 着
- b 合 着
- c 再印象
- d 陶材再築盛
- e 支台歯再形成

(採点上の取り扱い)

採点対象から除外する。

(理 由)

設問文が不十分であるため、採点対象から除外する。

第107回歯科医師国家試験における採点除外等の取扱いをした問題について

C 問題 第 3 問

3 殺菌を目的に歯磨剤に配合されるのはどれか。1つ選べ。

- a トラネキサム酸
- b ポビドンヨード
- c 乳酸アルミニウム
- d 塩化ベンゼトニウム
- e テトラサイクリン塩酸塩

(採点上の取り扱い)

正解した受験者については採点対象に含め、不正解の受験者については採点対象から除外する。

(理 由)

問題として適切であるが、必修問題としては妥当でないため。

第107回歯科医師国家試験における採点除外等の取扱いをした問題について

C 問題 第 7 問

7 ペニシリンの発見者はどれか。1つ選べ。

- a R. Koch
- b J. Lister
- c L. Pasteur
- d A. Fleming
- e I. P. Semmelweis

(採点上の取り扱い)

正解した受験者については採点対象に含め、不正解の受験者については採点対象から除外する。

(理 由)

問題として適切であるが、必修問題としては妥当でないため。

第107回歯科医師国家試験における採点除外等の取扱いをした問題について

C 問題 第 9 問

9 採取した血液を遠心分離した際、全容量に占める血球成分の割合を示すのはどれか。1つ選べ。

- a Hb
- b Ht
- c MCV
- d MCH
- e 赤 沈

(採点上の取り扱い)

正解した受験者については採点対象に含め、不正解の受験者については採点対象から除外する。

(理 由)

問題として適切であるが、必修問題としては妥当でないため。

第107回歯科医師国家試験における採点除外等の取扱いをした問題について

C 問題 第 10 問

10 高血圧症で最も頻度が高いのはどれか。1つ選べ。

- a 腎 性
- b 血管性
- c 神経性
- d 本態性
- e 内分泌性

(採点上の取り扱い)

正解した受験者については採点対象に含め、不正解の受験者については採点対象から除外する。

(理 由)

問題として適切であるが、必修問題としては妥当でないため。

第107回歯科医師国家試験における採点除外等の取扱いをした問題について

C 問題 第 25 問

25 MRI で大きく画像の歪みを生じるのはどれか。1つ選べ。

- a 非吸収性縫合糸
- b アクリルレジン床
- c コンポジットレジン修復
- d 金銀パラジウム合金インレー
- e ステンレススチール製ブラケット

(採点上の取り扱い)

正解した受験者については採点対象に含め、不正解の受験者については採点対象から除外する。

(理 由)

問題として適切であるが、必修問題としては妥当でないため。

第107回歯科医師国家試験における採点除外等の取扱いをした問題について

C 問題 第 32 問

32 管電圧 60～70 kV の口内法エックス線撮影装置における総ろ過で適切なのはどれか。1つ選べ。

- a 0.3 mmAl 当量
- b 0.6 mmAl 当量
- c 0.9 mmAl 当量
- d 1.2 mmAl 当量
- e 1.5 mmAl 当量

(採点上の取り扱い)

正解した受験者については採点対象に含め、不正解の受験者については採点対象から除外する。

(理 由)

問題として適切であるが、必修問題としては妥当でないため。

第107回歯科医師国家試験における採点除外等の取扱いをした問題について

C 問題 第 34 問

34 歯科用器具類の感染管理でクリティカルに分類されるのはどれか。1つ選べ。

- a スケーラー
- b 印象用トレイ
- c フェイスボウ
- d デンタルミラー
- e 歯科用ハンドピース

(採点上の取り扱い)

採点対象から除外する。

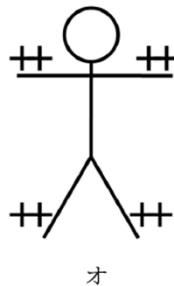
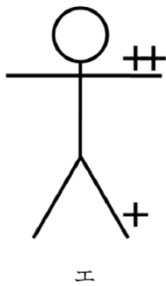
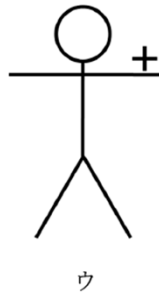
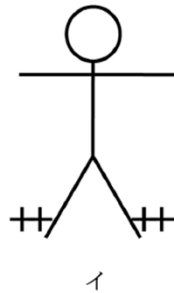
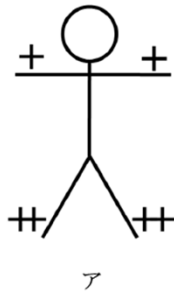
(理 由)

選択肢に不適切があるため、採点対象から除外する。

第107回歯科医師国家試験における採点除外等の取扱いをした問題について

C 問題 第 41 問

41 麻痺を有する人体の模式図を示す。



麻痺がある：+
麻痺の程度：+<++

両麻痺はどれか。1つ選べ。

- a ア
- b イ
- c ウ
- d エ
- e オ

(採点上の取り扱い)

採点対象から除外する。

(理 由)

問題として適切であるが、受験者レベルでは難しすぎるため採点対象から除外する。

第107回歯科医師国家試験における採点除外等の取扱いをした問題について

C 問題 第 44 問

44 研究を行ったサンプルにおいて、2群間の差を統計的に検定した結果と母集団における真理との関係を表に示す。

サンプル集団における 研究の結果	母集団における真理	
	差あり	差なし
帰無仮説を棄却	ア	イ
帰無仮説を棄却せず	ウ	エ

第1種の過誤はどれか。1つ選べ。

- a ア
- b イ
- c ウ
- d アとエ
- e イとウ

(採点上の取り扱い)

採点対象から除外する。

(理 由)

問題として適切であるが、受験者レベルでは難しすぎるため採点対象から除外する。

第107回歯科医師国家試験における採点除外等の取扱いをした問題について

C 問題 第 60 問

60 スプレー式フッ化物局所応用法のフッ素濃度(ppm)はどれか。1つ選べ。

- a 100
- b 500
- c 1,000
- d 3,000
- e 9,000

(採点上の取り扱い)

採点対象から除外する。

(理 由)

問題として適切であるが、受験者レベルでは難しすぎるため採点対象から除外する。

第107回歯科医師国家試験における採点除外等の取扱いをした問題について

C 問題 第 77 問

77 空気感染によって広がるのはどれか。2つ選べ。

- a 結核
- b 風疹
- c 麻疹
- d 流行性耳下腺炎
- e インフルエンザ

(採点上の取り扱い)

採点対象から除外する。

(理由)

設問文が不明瞭であるため、採点対象から除外する。